

Типы задач №1

Тема: **Использование
информационных моделей (таблицы,
диаграммы, графики).**

ЕГЭ по информатике

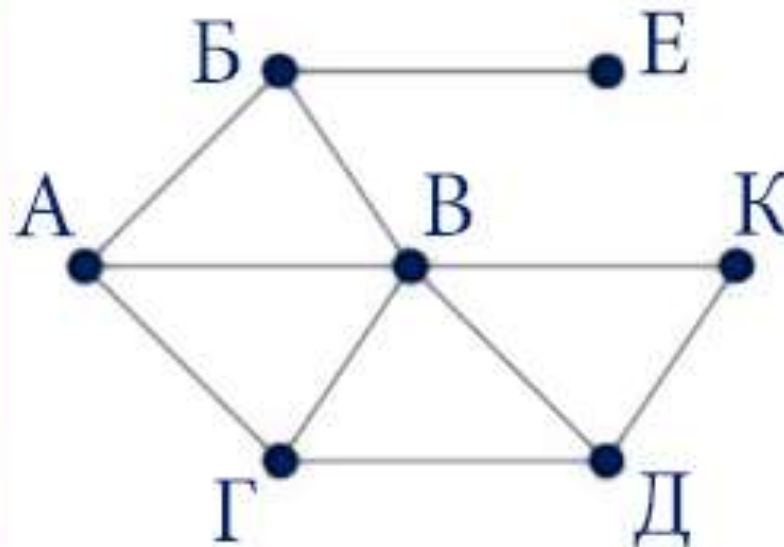
Составила учитель информатики Дорохова О.А.

Что нужно знать:

- *граф* (это набор вершин и соединяющих их ребер) и как он описывается в виде таблицы, хотя, как правило, все необходимые объяснения даны в формулировке задания
- чаще всего используется *взвешенный граф*, где с каждым ребром связано некоторое число (вес), оно может обозначать, например, расстояние между городами или стоимость перевозки
- граф по заданной таблице (она еще называется *весовой матрицей*) может быть нарисован по-разному

№1. На рисунке справа схема дорог Н-ского района изображена в виде графа, в таблице содержатся сведения о длинах этих дорог (в километрах).

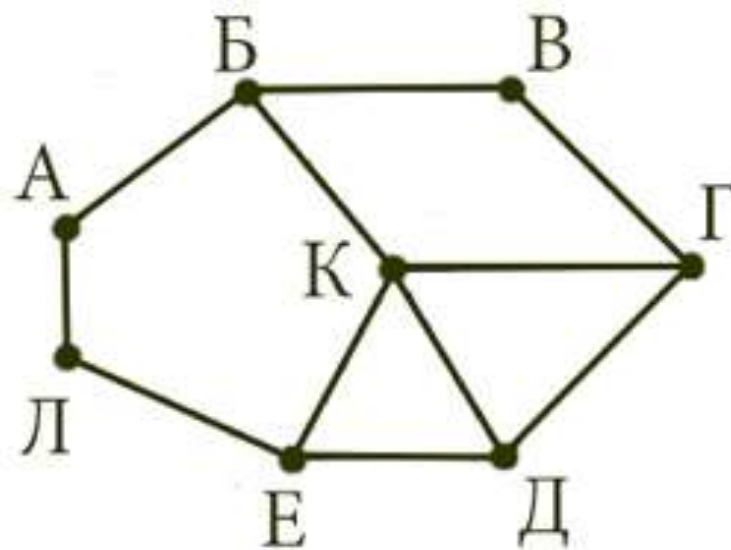
		Номер пункта						
		1	2	3	4	5	6	7
Номер пункта	1			4		6	7	
	2			5			3	
	3	4	5				8	
	4							13
	5	6					10	15
	6	7	3	8		10		9
	7				13	15	9	



Так как таблицу и схему рисовали независимо друг от друга, то нумерация населённых пунктов в таблице никак не связана с буквенными обозначениями на графе. **Определите, какова протяжённость дороги из пункта Г в Д. В ответе запишите целое число - так, как оно указано в таблице.**

№2. На рисунке справа схема дорог Н-ского района изображена в виде графа, в таблице содержатся сведения о длинах этих дорог (в километрах).

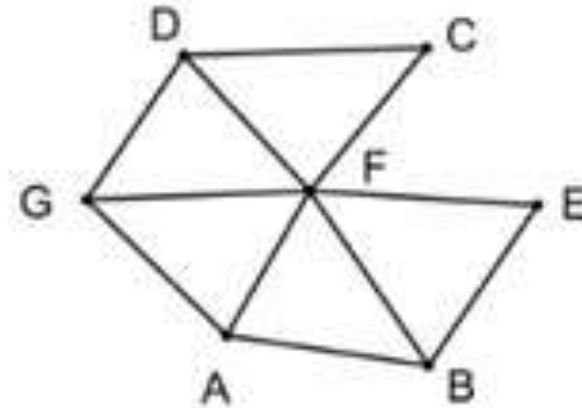
	п1	п2	п3	п4	п5	п6	п7	п8
п1		16		21				19
п2	16		26					
п3		26				25		23
п4	21						13	
п5						14	17	18
п6			25	14				16
п7				13	17			
п8	19		23		18	16		



Т.к. таблицу и схему рисовали независимо друг от друга, нумерация населённых пунктов в таблице никак не связана с буквенными обозначениями на графе. **Определите длину дороги от пункта В до пункта Б. В ответе запишите целое число.**

№3. На рисунке слева изображена схема дорог Н-ского района, в таблице звёздочкой обозначено наличие дороги из одного населённого пункта в другой. Отсутствие звёздочки означает, что такой дороги нет.

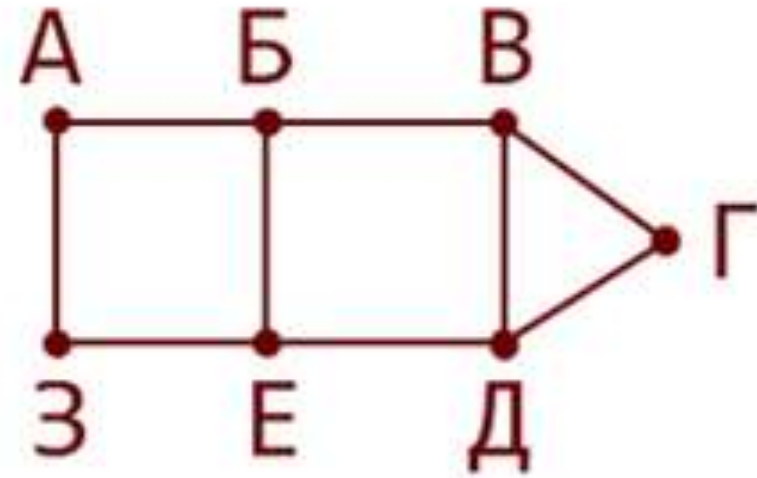
	1	2	3	4	5	6	7
1			*	*			*
2			*		*	*	
3	*	*		*	*	*	*
4	*		*				
5		*	*				
6		*	*				*
7	*		*			*	



Каждому населённому пункту на схеме соответствует его номер в таблице, но неизвестно, какой именно номер. **Определите, какие номера населённых пунктов в таблице могут соответствовать населённым пунктам А и G на схеме. В ответе запишите эти два номера в возрастающем порядке без пробелов и знаков препинания.**

№4. На рисунке справа схема дорог Н-ского района изображена в виде графа, в таблице содержатся сведения о длинах этих дорог (в километрах).

	п1	п2	п3	п4	п5	п6	п7
п1						13	8
п2					11	12	10
п3				6	7	4	
п4			6		16		
п5		11	7	16			
п6	13	12	4				
п7	8	10					

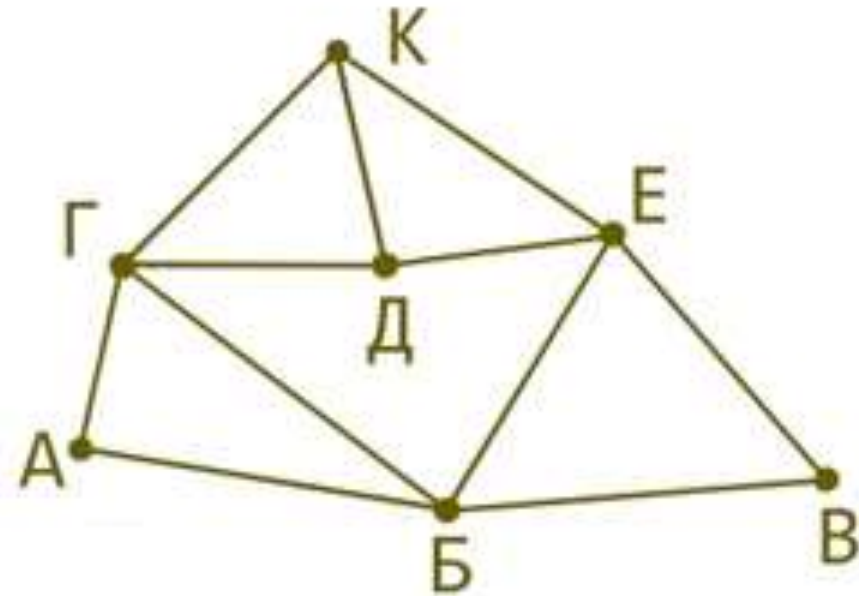


Так как таблицу и схему рисовали независимо друг от друга, то нумерация населённых пунктов в таблице никак не связана с буквенными обозначениями на графе. **Найдите сумму длин дорог из пункта А в пункт Б и из пункта З в Е. В ответе запишите только целое число.**

№5 (нестандартная)

На рисунке справа схема дорог, в таблице слева информация о длинах этих дорог в километрах.

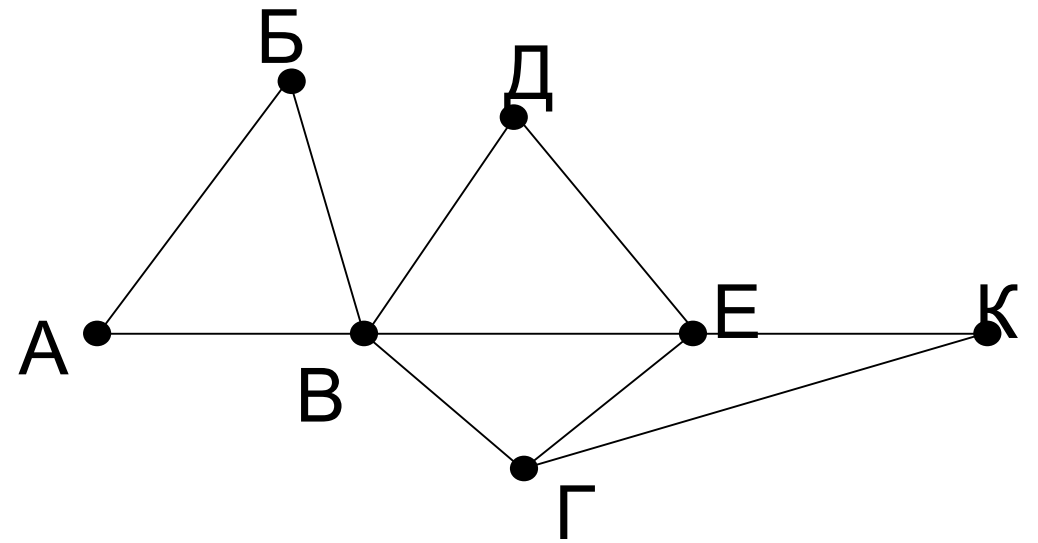
	п1	п2	п3	п4	п5	п6	п7
п1			17	32	22		25
п2						15	18
п3	17						19
п4	32				15	16	
п5	22			15		12	
п6		15		16	12		20
п7	25	18	19			20	



Так как таблицу и схему рисовали независимо друг от друга, то нумерация населённых пунктов в таблице никак не связана с буквенными обозначениями на графе. Известно, что длина кратчайшего пути из К в В не превышает 29 километров. Определите длину дороги из Е в В.

№6. На рисунке справа схема дорог Н-ского района изображена в виде графа, в таблице содержатся сведения о длинах этих дорог (в километрах).

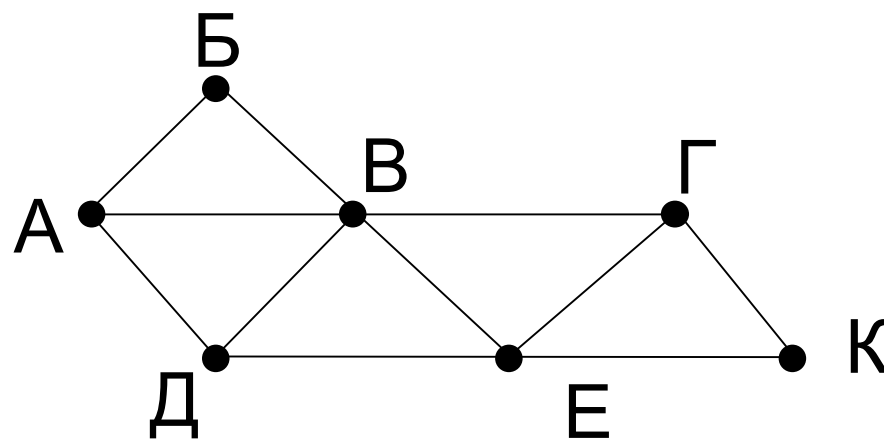
	п1	п2	п3	п4	п5	п6	п7
п1		45		10			
п2	45			40		55	
п3					15	60	
п4	10	40				20	35
п5			15			55	
п6		55	60	20	55		45
п7				35		45	



Так как таблицу и схему рисовали независимо друг от друга, то нумерация населённых пунктов в таблице никак не связана с буквенными обозначениями на графе. **Определите, какова длина дороги из пункта В в пункт Е. В ответе запишите целое число – так, как оно указано в таблице.**

№7. На рисунке справа схема дорог Н-ского района изображена в виде графа, в таблице содержатся сведения о длинах этих дорог (в километрах).

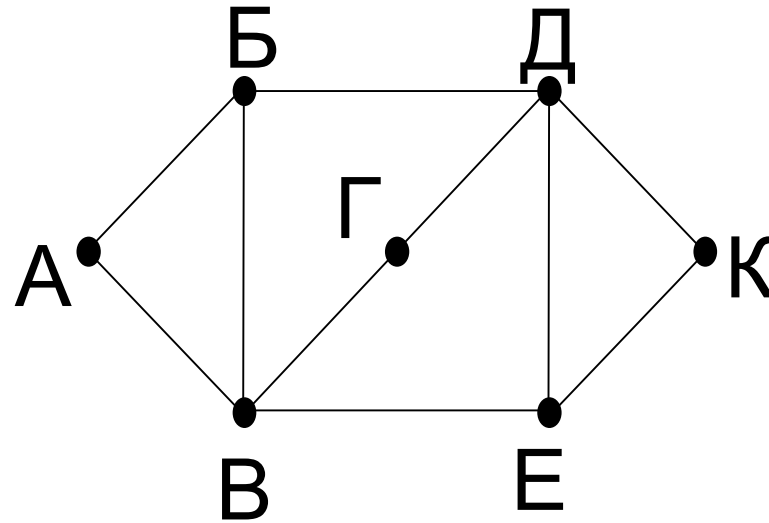
	п1	п2	п3	п4	п5	п6	п7
п1			30		25		18
п2			17	12			
п3	30	17		23		34	15
п4		12	23			46	
п5	25						37
п6			34	46			18
п7	18		15		37	18	



Так как таблицу и схему рисовали независимо друг от друга, то нумерация населённых пунктов в таблице никак не связана с буквенными обозначениями на графе. **Определите, какова длина дороги из пункта А в пункт Д. В ответе запишите целое число – так, как оно указано в таблице.**

№8. На рисунке справа схема дорог Н-ского района изображена в виде графа, в таблице содержатся сведения о длинах этих дорог (в километрах).

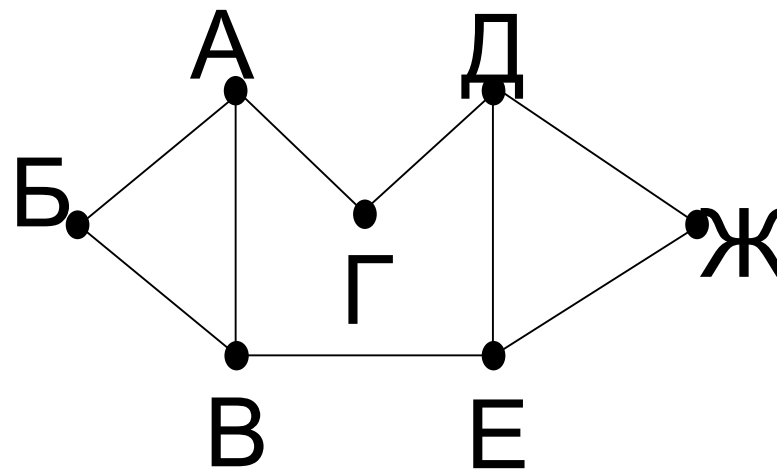
	п1	п2	п3	п4	п5	п6	п7
п1			9		18	14	11
п2			5	12		7	8
п3	9	5					
п4		12				10	
п5	18						15
п6	14	7		10			
п7	11	8			15		



Так как таблицу и схему рисовали независимо друг от друга, то нумерация населённых пунктов в таблице никак не связана с буквенными обозначениями на графе. **Определите длину кратчайшего пути из пункта А в пункт К, если передвигаться можно только по указанным дорогам. В ответе запишите целое число – длину пути в километрах.**

№9. На рисунке слева изображена схема дорог Н-ского района, в таблице звёздочкой обозначено наличие дороги из одного населённого пункта в другой. Отсутствие звёздочки означает, что такой дороги нет.

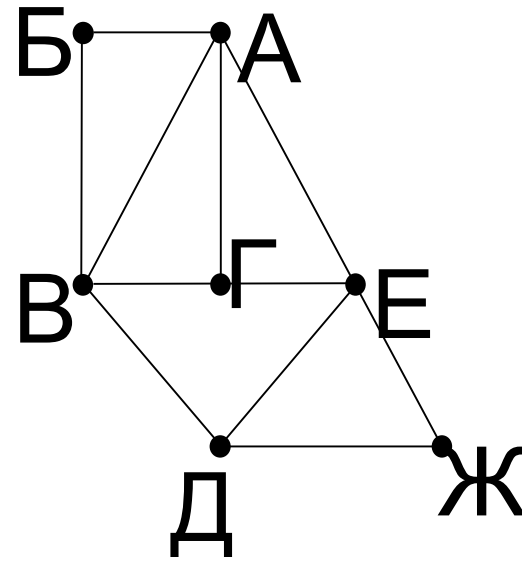
	1	2	3	4	5	6	7
1						*	*
2			*	*		*	
3		*		*			
4		*	*		*		
5				*			*
6	*	*					*
7	*				*	*	



Определите, какие номера населённых пунктов в таблице могут соответствовать населённым пунктам В и Е на схеме. В ответе запишите эти два номера в возрастающем порядке без пробелов и знаков препинания.

№10. На рисунке справа схема дорог Н-ского района изображена в виде графа, в таблице содержатся сведения о длинах этих дорог (в километрах).

	п1	п2	п3	п4	п5	п6	п7
п1		15			13		
п2	15		14	21	9		
п3		14			11		13
п4		21				20	19
п5	13	9	11				16
п6				20			25
п7			13	19	16	25	

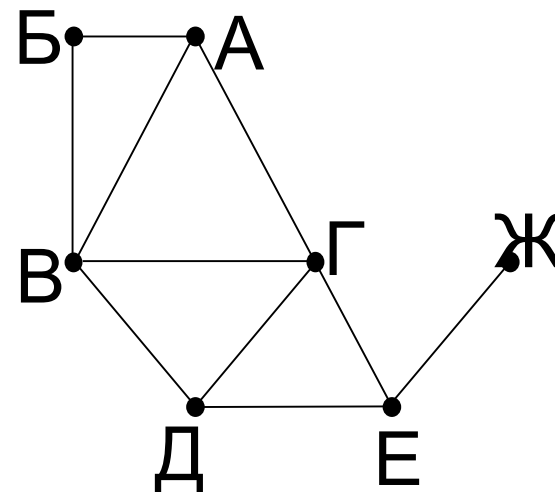


Так как таблицу и схему рисовали независимо друг от друга, то нумерация населённых пунктов в таблице никак не связана с буквенными обозначениями на графе. **Определите, в какой пункт ведёт самая короткая дорога из пункта А.**

№11. На рисунке справа схема дорог Н-ского района изображена в виде графа, в таблице содержатся сведения о длинах этих дорог (в километрах). Так как таблицу и схему рисовали независимо друг от друга, то нумерация населённых пунктов в таблице никак не связана с буквенными

обозначениями на графе.

	п1	п2	п3	п4	п5	п6	п7
п1						6	14
п2				8	23		5
п3					20		
п4		8			13	21	15
п5		23	20	13			
п6	6			21			7
п7	14	5		15		7	



Укажите кратчайший путь из пункта Б в пункт Ж. В ответе перечислите все населённые пункты, через которые проходит путь. Например, путь из Г в В через А и Б записывается как ГАБВ.

№12. Между населёнными пунктами A, B, C, D, E, F, Z построены дороги с односторонним движением. В таблице указана протяжённость каждой дороги. Отсутствие числа в таблице означает, что прямой дороги между пунктами нет. Например, из A в B есть дорога длиной 4 км, а из B в A дороги нет.

	A	B	C	D	E	F	Z
A		4	6				30
B			3	4			
C				11			27
D					4	7	10
E						4	8
F					5		2
Z	29						

Сколько существует таких маршрутов из A в Z, которые проходят через 6 и более населенных пунктов? Пункты A и Z при подсчете учитывать. Два раза проходить через один пункт нельзя.

№13. Между населёнными пунктами A, B, C, D, E, F построены дороги, протяжённость которых приведена в таблице. (Отсутствие числа в таблице означает, что прямой дороги между пунктами нет.)

	A	B	C	D	E	F
A		2	4	8		16
B	2			3		
C	4			3		
D	8	3	3		5	3
E				5		5
F	16			3	5	

Определите длину кратчайшего пути между пунктами A и F, проходящего через пункт E и не проходящего через пункт B. Передвигаться можно только по указанным дорогам.

№14. Между населёнными пунктами A, B, C, D, E, F, Z построены дороги с односторонним движением. В таблице указана протяжённость каждой дороги. Отсутствие числа в таблице означает, что прямой дороги между пунктами нет. Например, из A в B есть дорога длиной 4 км, а из B в A дороги нет.

	A	B	C	D	E	F	Z
A		4	6				30
B			3				
C				11			27
D					4	7	10
E						4	8
F					5		2
Z	29						

Сколько существует таких маршрутов из A в Z, которые проходят через 6 и более населенных пунктов? Пункты A и Z при подсчете учитывать. Два раза проходить через один пункт нельзя.